



COLÉGIO UNIVERSITÁRIO DE AVARÉ



ATIVIDADE DE GEOGRAFIA

Série: 6º EF

PROFESSORA:

NOTA


ALUNO(A):

Nº.

Data ___/___/2020

01 Questão:

Observe o gráfico abaixo:



a) Com base no que você aprendeu nas aulas de geografia indique a Latitude dos pontos assinalados no gráfico acima, na tabela abaixo:

OBS: Latitude Sul = LS

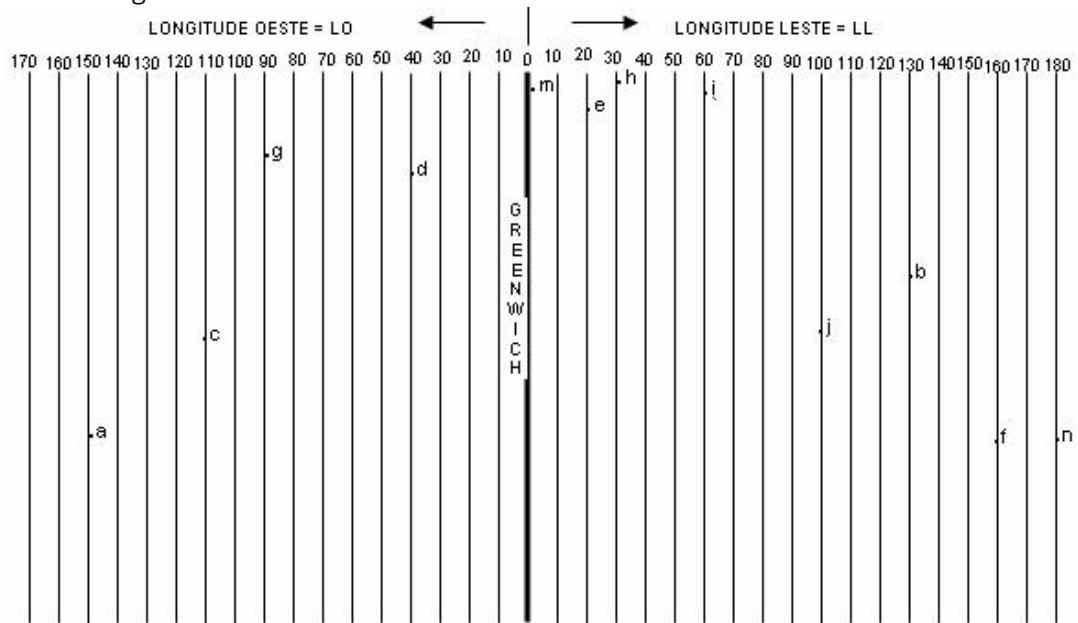
Latitude Norte = LN

A=	B=	C=
D=	E=	F=
G=	H=	

b) Observe a tabela abaixo. Ela indica a latitude de alguns pontos que você deverá **localizar** no gráfico acima, colocando a letras dos pontos indicados nas latitudes correspondentes:

N= 80° LN	O= 50° LS	P= 70° LS
Q= 10° LS	U= 30° LS	X= 0°
T= 40° LN	Z= 70° LN	R= 10° LN
S= 80° LS		

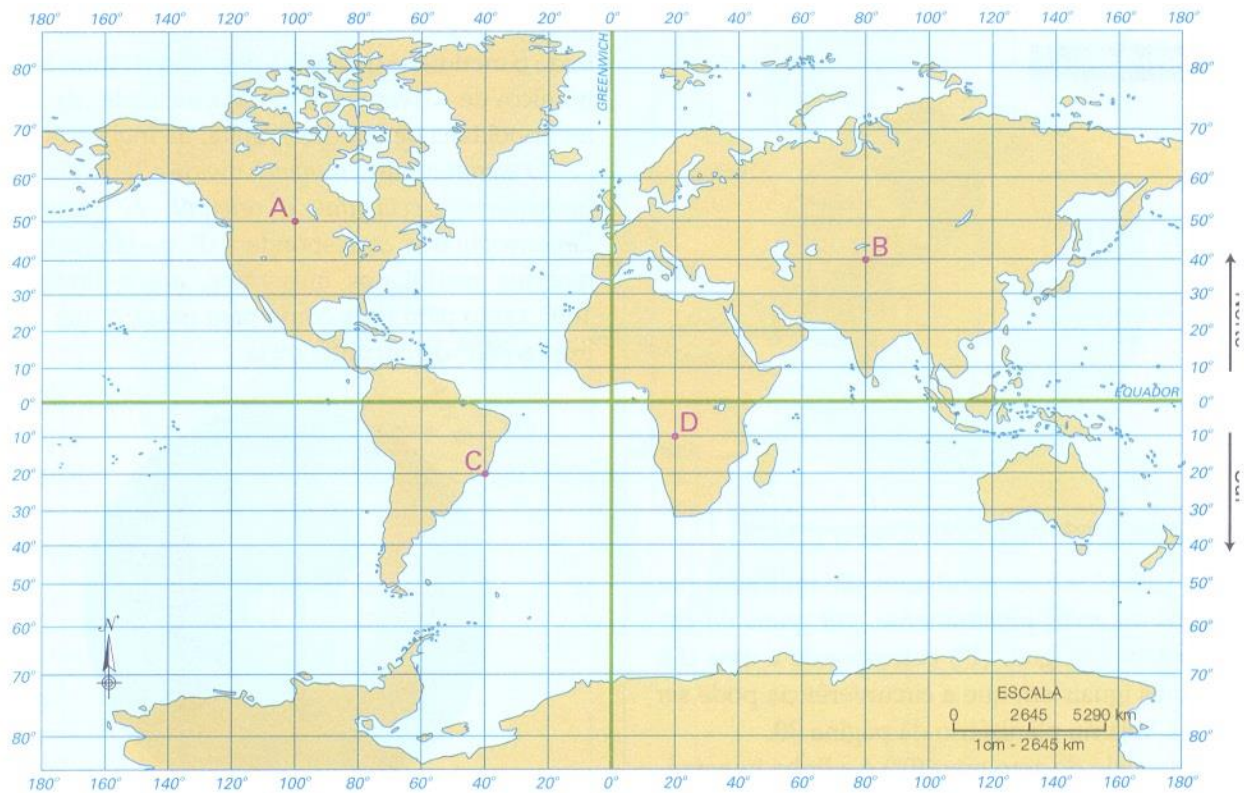
02 Questão: Observe o gráfico abaixo:



a) Observe o Gráfico acima e indique a Longitude dos pontos assinalados no mesmo gráfico, na tabela abaixo:

A=	B=	C=
D=	E=	F=
G=	H=	I=
J=	M=	N=

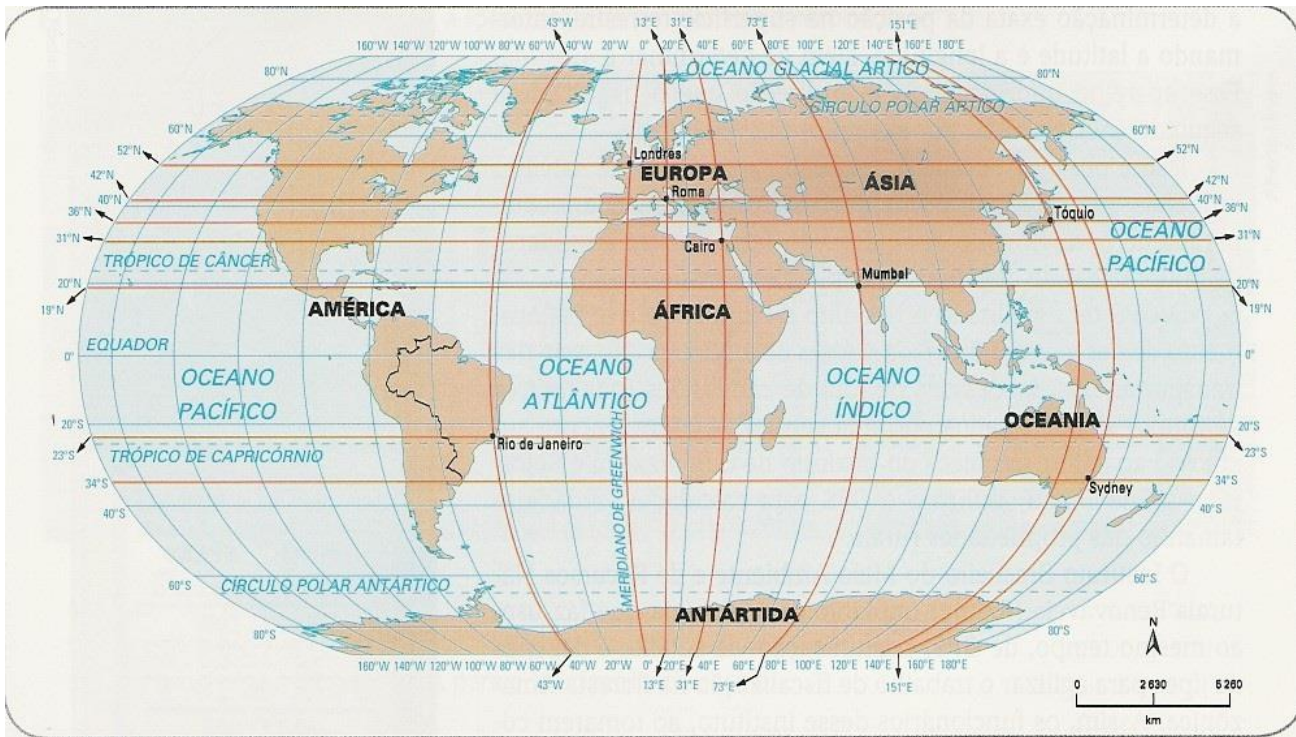
03 Questão: Observe o mapa abaixo e responda os enunciados que se seguem:



a) Com base no que você aprendeu nas aulas de geografia indique a Latitude e as longitudes dos pontos indicados no mapa acima, transcrevendo suas coordenadas para a tabela abaixo na célula reservada para cada um:

A=	B=	C=
D=		

Observe o mapa abaixo e responda os enunciados das questões 4ª, 5ª e 6ª que se seguem:



a) Quais são as cidades assinaladas no mapa?

b) Em quais continentes as cidades estão localizadas? E em quais hemisfério – Norte ou Sul, Leste ou Oeste.

04 Questão: Com base no mesmo mapa identifique a cidade de acordo com a sua localização (latitude e longitude)

a) 42° latitude norte e 13° longitude leste: _____

b) 19° latitude norte e 73° longitude leste: _____

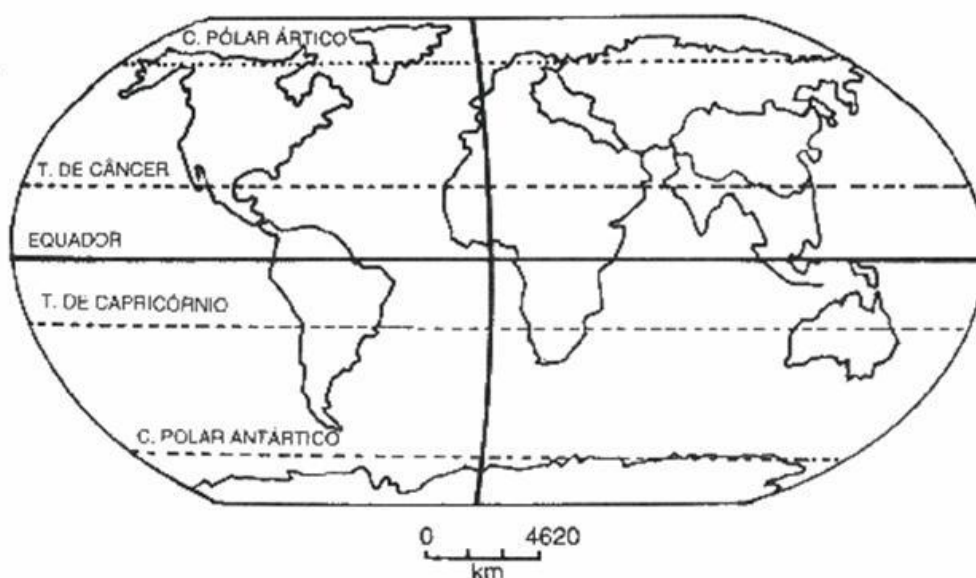
c) 23° latitude sul e 43° longitude oeste: _____

05 Questão – Identifique as coordenadas geográficas de:

- a) Londres; _____
- b) Cairo; _____
- c) Tóquio; _____
- d) Sydney. _____

ATIVIDADE DE FIXAÇÃO

Questão 07: Observando o mapa-múndi abaixo no que se refere aos hemisférios, assinale com V a alternativa verdadeira e com F a falsa:



- () A linha do Equador divide a Terra em duas metades iguais, que recebem os nomes de Hemisfério Norte ou Austral e Hemisfério Sul ou Boreal.
- () Com exceção do Equador, todos os paralelos dividem a Terra em partes desiguais.
- () O meridiano de Greenwich, divide a Terra nos Hemisférios Leste ou Ocidental e Oeste ou Oriental. () O Hemisfério do Ocidente é também denominado de poente.
- () O Hemisfério Setentrional é também uma denominação para o Hemisfério Boreal.

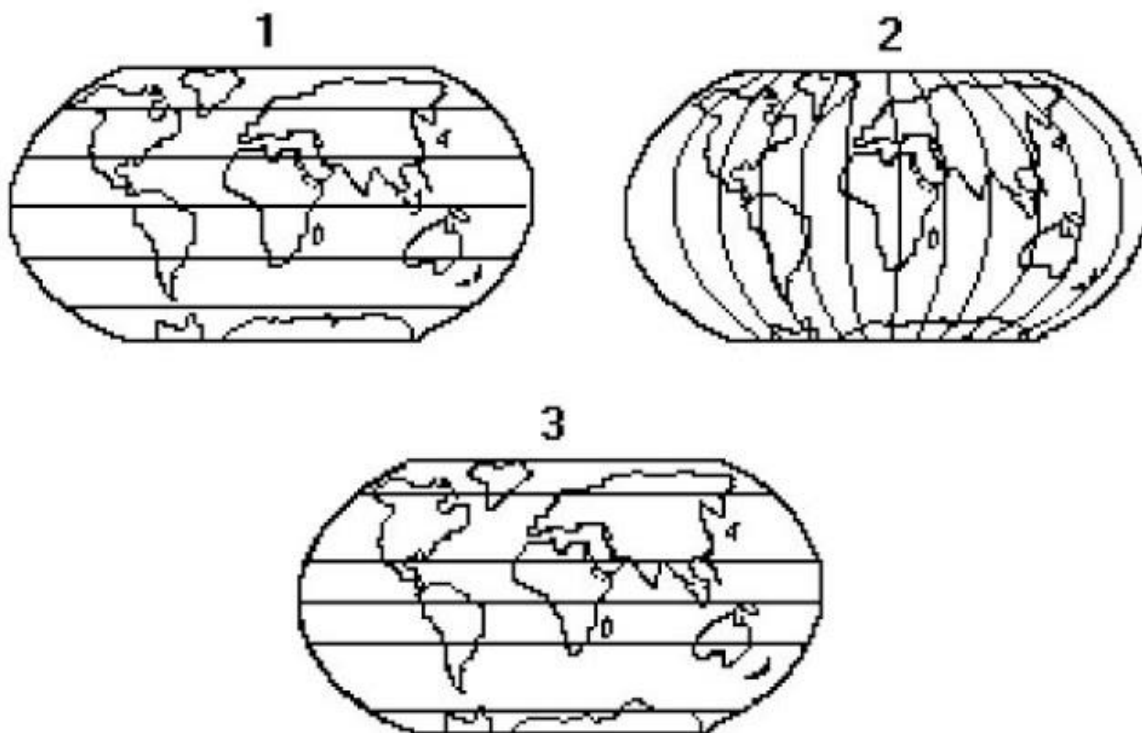
08 Questão: A representação do espaço geográfico através de mapas é de extrema importância para a compreensão do mundo em que vivemos. Com relação à localização do Brasil na superfície terrestre, marque (V) para cada afirmação que for verdadeira e (F) para cada afirmação que for falsa.

- () Apenas uma pequena porção do território brasileiro localiza-se no hemisfério norte.
- () A linha do Equador corta a região Sul do Brasil.
- () A maior parte do território brasileiro localiza-se no hemisfério setentrional.
- () O Brasil localiza-se a oeste do meridiano de Greenwich.

09 Questão: Sobre a orientação, pode-se afirmar corretamente:

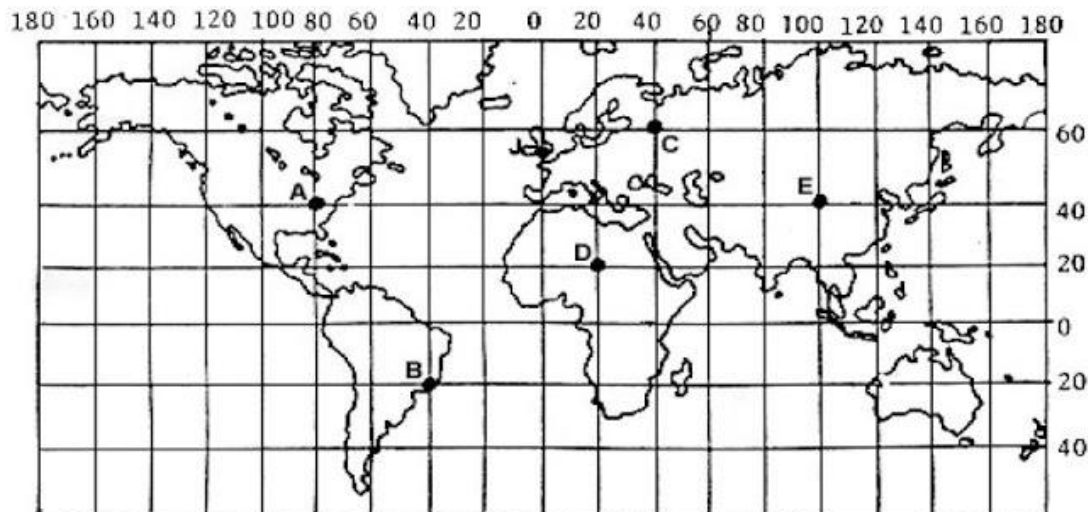
- a) O espaço entre o sudeste e o noroeste tem dois pontos cardeais, dois pontos colaterais e cinco subcolaterais, partindo de qualquer direção.
- b) A representação gráfica da orientação é feita através das coordenadas geográficas.
- c) A distância sudoeste-sudeste é de 180°.
- d) A distância leste-oeste é de 180°.
- e) O espaço entre o ponto colateral noroeste e o ponto colateral sudeste, sentido horário, tem dois pontos colaterais e seis pontos subcolaterais.

10 Questão: Para responder a esta questão, considere os mapas a seguir.



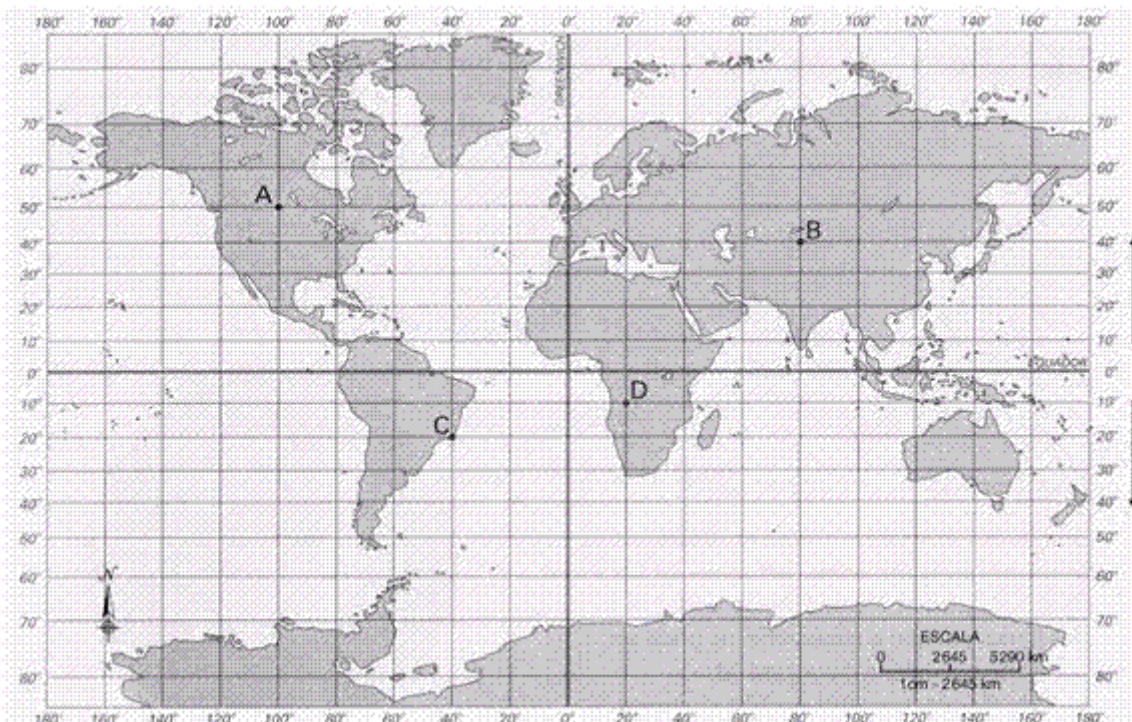
- a) mapa 1 = longitude; mapa 2 = latitude; mapa 3 = zonas climáticas
- b) mapa1 = meridianos; mapa 2 = paralelos; mapa 3 = zonas climáticas
- c) mapa1 = latitude; mapa 2 = paralelos; mapa 3 = fusos horários
- d) mapa1 = paralelos; mapa 2 = meridianos; mapa 3 = zonas climáticas

Dê as coordenadas geográficas dos pontos abaixo



Observação: mapa abaixo deverá servir de base para as questões 11 e 12.

11 Questão: Observe mapa abaixo:



A de latitude e de longitude

B de latitude e de longitude

C de latitude e de longitude

D de latitude e de longitude

Questão 12 - Dê o nome do continente onde se localizam os seguintes pontos:

A

B

C

D