

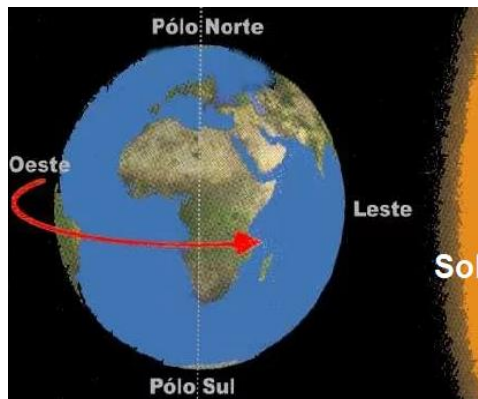
**COLÉGIO UNIVERSITÁRIO DE AVARÉ**  
1º Ano do Ensino Médio A - Prof.ª Silvana -  
**ATIVIDADES COMPLEMENTARES DE GEOGRAFIA (23 a 27 de Março)**

**ATIVIDADES DO CAPÍTULO 1- ELEMENTOS DA ORIENTAÇÃO- LIVRO-TEXTO**

1) Os pontos de orientação mais importantes para a determinação de uma posição de referência na superfície da Terra são os cardeais, colaterais e subcolaterais. Quando representados em uma só figura ou desenho, os pontos de orientação formam o que se denomina de rosa dos ventos, rosa dos rumos ou rosa náutica.

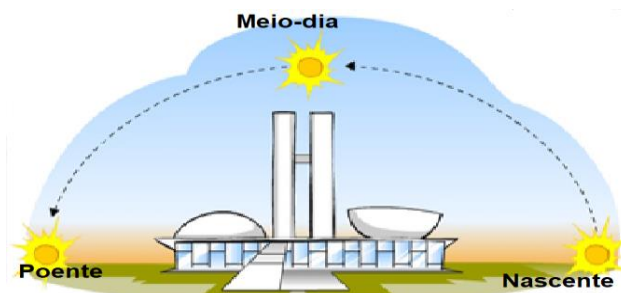


2) Explique o Movimento de Rotação da Terra:



R:.....  
.....  
.....

3) Observe a figura que mostra a trajetória ou movimento aparente. Comente sobre esse movimento.



R:.....  
.....

4) O globo terrestre e mapa-múndi são exemplos de representações da Terra. Nessas representações, são traçadas linhas imaginárias (paralelos e meridianos) que tornam possível determinar a localização de qualquer ponto na superfície terrestre. A partir dessas linhas, podemos definir o sistema de coordenadas geográficas conhecidas como Latitude e Longitude. Sabendo disso responda de maneira sucinta as questões abaixo:

a) O que são paralelos?

R:.....  
.....  
.....

b) O que são meridianos?

R:.....  
.....  
.....

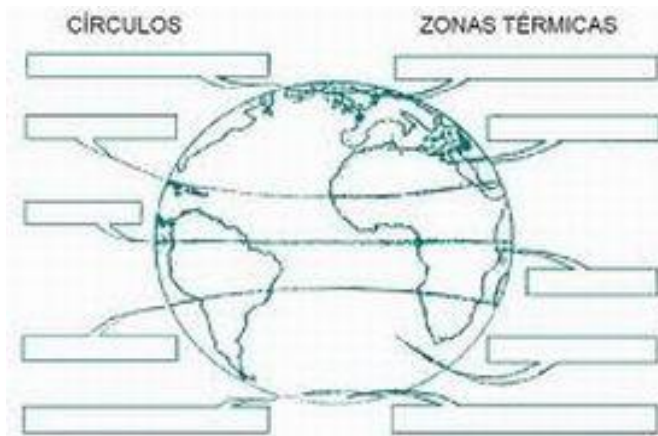
c) O que é latitude?

R:.....  
.....  
.....

d) O que é longitude?

R:.....  
.....  
.....

5) Complete com as Zonas Climáticas da Terra:



6) O Sistema de Posicionamento Global (GPS) é considerado, atualmente, o recurso mais moderno e preciso para determinar a posição de um ponto na superfície. Faça um pequeno resumo sobre esse meio de orientação.

R:.....  
.....  
.....  
.....



A orientação inicial que alguém recebe da educação também marca a sua conduta ulterior.

Platão