


ATIVIDADES – LÍNGUA PORTUGUESA – 2º ANO

1) LEIA O TEXTO A SEGUIR E RESPONDA AS QUESTÕES:



A TURMA DA MÔNICA SE REUNIU PARA ALERTAR SOBRE A IMPORTÂNCIA DA HIGIENE PESSOAL NO COMBATE À DISSEMINAÇÃO DO CORONAVÍRUS. PARA ISSO, COLOCOU CASCÃO PARA LAVAR AS MÃOS.

EM UMA IMAGEM PUBLICADA NA PÁGINA OFICIAL DA HISTÓRIA EM QUADRINHOS, MÔNICA, CEBOLINHA, MAGALI E OUTROS PERSONAGENS DA FAMOSA TURMINHA COLOCAM CASCÃO DIANTE DE UMA TORNEIRA E ALERTAM: "LAVAR AS MÃOS SALVA VIDAS". O PERSONAGEM É FAMOSO POR SEU MEDO DE ÁGUA. "JÁ LAVARAM AS MÃOS? ESTA É A PRINCIPAL FORMA DE SE PREVENIR CONTRA O NOVO CORONAVÍRUS",

A) POR QUAL MOTIVO A TURMA DA MÔNICA SE REUNIU?

B) QUAL PERSONAGEM É FAMOSO POR TER MEDO DA ÁGUA?

C) CITE ALGUNS PERSONAGENS DA TURMA DA MÔNICA.

2) PINTE OS PARES DE PALAVRAS QUE RIMAM.

MAGALI	MÔNICA	LAVAR	MÃOS	TURMA
JAVALI	CEBOLINHA	CAVAR	IRMÃOS	HISTÓRIA

3) TROQUE A LETRA EM DESTAQUE DE CADA PALAVRA E FORME OUTRA.

A) LAVE: _____

B) MÃO: _____

C) TURMA: _____

D) MAGALI: _____

E) ALERTAR: _____

4) COLOQUE AS LETRAS R OU L NAS PALAVRAS ABAIXO E FORME NOVAS PALAVRAS.

FOCO	
BANCO	
FESTA	
PONTO	
GATO	
FEIO	
TIO	
TINTA	
SIGA	
FORA	

CAVO	
FIO	
DAMA	
PACA	
TÓPICO	
CIMA	
PATO	
BOTO	
TOCO	
TECA	

ATIVIDADES – MATEMÁTICA - 2º ANO

1) OBSERVE OS NÚMEROS PRESENTES NAS IMAGENS A SEGUIR.

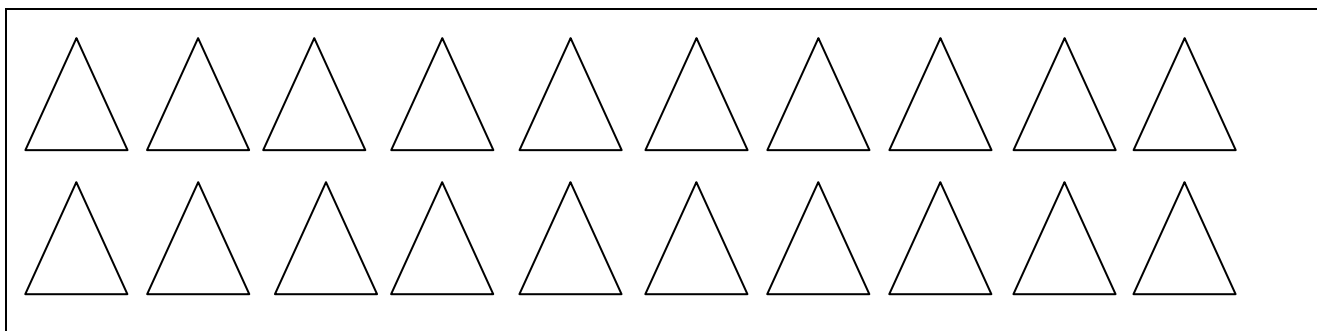


AGORA FAÇA O QUE SE PEDE.

A) CONTORNE AS IMAGENS QUE REPRESENTAM CÓDIGOS.

B) ASSINALE COM X AS IMAGENS QUE OS NÚMEROS REPRESENTAM MEDIDAS.

2) VEJA O GRUPO DE TRIÂNGULOS ABAIXO. FAÇA AGRUPAMENTOS DE 3 EM 3.

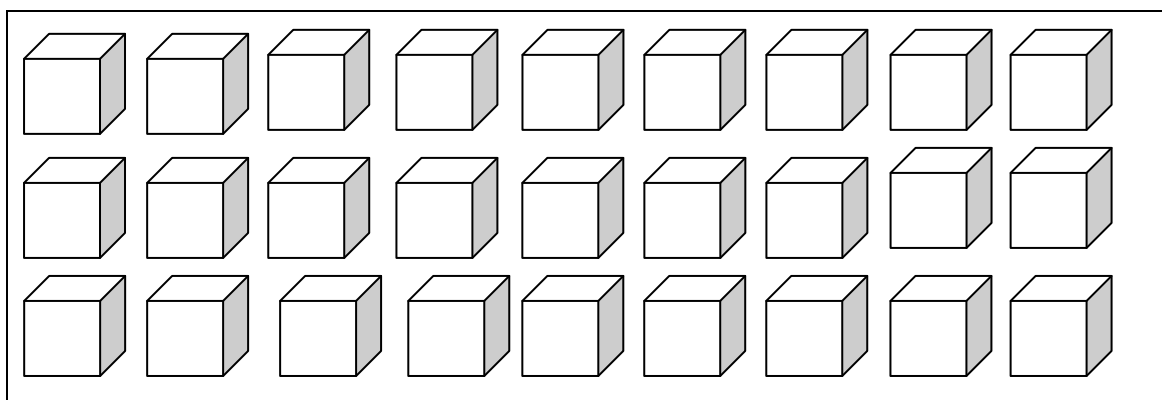


A) QUANTOS GRUPOS FORAM FORMADOS?

B) SOBRARAM TRIÂNGULOS SEM GRUPO? _____.

SE SIM, QUANTOS? _____.

3) VEJA O GRUPO DE CUBOS ABAIXO. FAÇA AGRUPAMENTOS DE 5 EM 5.



A) QUANTOS GRUPOS FORAM FORMADOS?

B) SOBRARAM CUBOS SEM GRUPO? _____.

SE SIM, QUANTOS? _____.

4) COMPLETE A COMPOSIÇÃO OU A DECOMPOSIÇÃO EM CADA ITEM.

A) $54 = \underline{\hspace{2cm}}$ DEZENAS + $\underline{\hspace{2cm}}$ UNIDADES.

B) $\underline{\hspace{2cm}} = 2$ DEZENAS + 7 UNIDADES.

C) $41 = \underline{\hspace{2cm}}$ DEZENAS + $\underline{\hspace{2cm}}$ UNIDADE.

D) $\underline{\hspace{2cm}} = 6$ DEZENAS + 6 UNIDADES.

5) MÔNICA LEU 5 GIBIS PELA MANHÃ E 7 GIBIS A TARDE. QUANTOS GIBIS ELA LEU NO TOTAL?



6) CEBOLINHA E MÔNICA ESTÃO BRINCANDO JUNTOS. ELE TROUXE 13 CARRINHOS E ELA 6 BONECAS. QUANTOS BRINQUEDOS ELES TEM JUNTOS?



7) NO SÍTIO DE CHICO BENTO TEM 5 GALINHAS, 3 VACAS, 2 PORCOS E 4 CAVALOS. QUANTOS ANIMAIS AO TODO TEM NO SÍTIO DE CHICO BENTO?

